





## ТЕСТ СКЛОНОСТИ И СПОСОБНОСТИ


1. КОРИСТЕЊИ ЧЕТИРИ ЦРНА КВАДРАТА КОЈИ МОГУ БИТИ РАЗЛИЧИТИХ ВЕЛИЧИНА, У ПРЕДВИЂЕНИМ ПОЉИМА, НАЦРТАТИ РЕШЕЊА КОЈА НА НАЈБОЉИ НАЧИН ИЛУСТРУЈУ ЗАДАТЕ РЕЧИ ( ТЕСНО, СТАБИЛНО, УВЕЋАЊЕ).



ТЕСНО

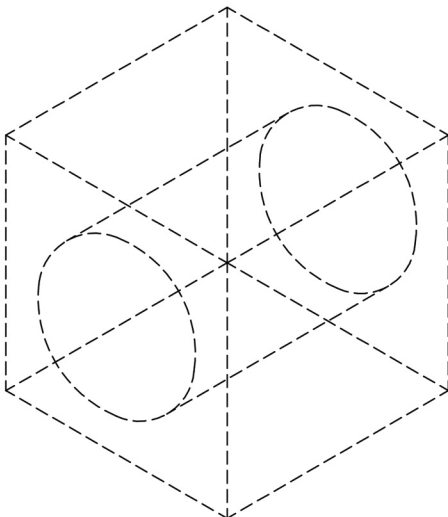
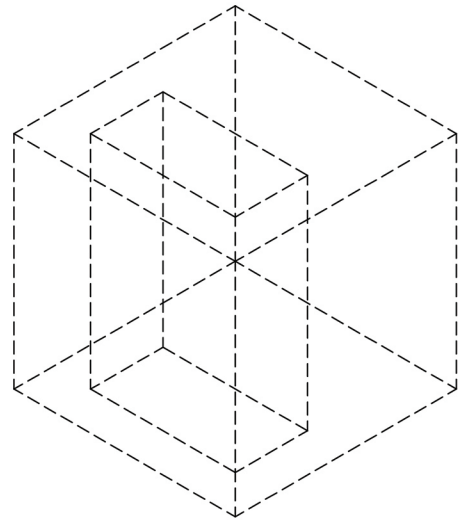
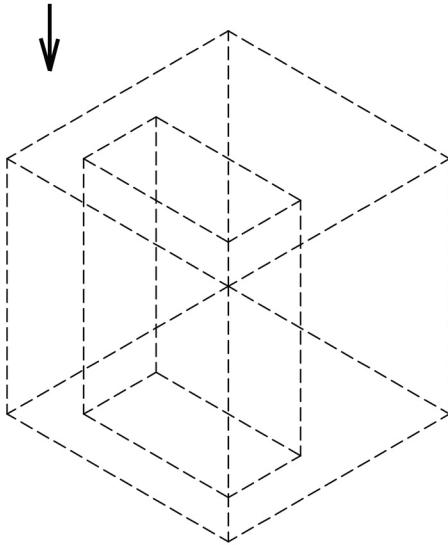


СТАБИЛНО

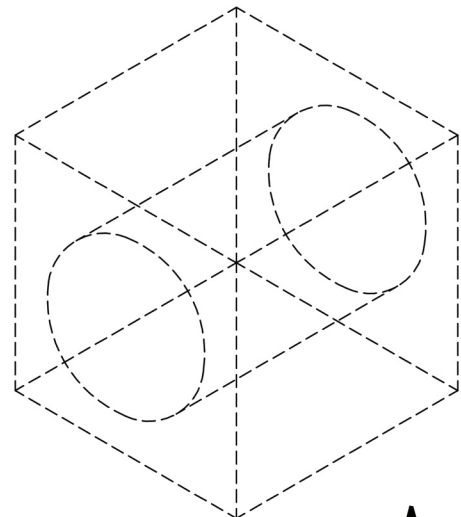


УВЕЋАЊЕ

2. КОЦКА ЈЕ ПРОБУШЕНА КРОЗ СРЕДИНУ. ПОДЕБЉАТИ ИСПРЕКИДАНЕ ЛИНИЈЕ ТАКО ДА СЕ КОЦКА ПРИКАЖЕ У ДВА ПОГЛЕДА, ОДОЗГО И ОДОЗДО.



Поглед одозго



Поглед одоздо



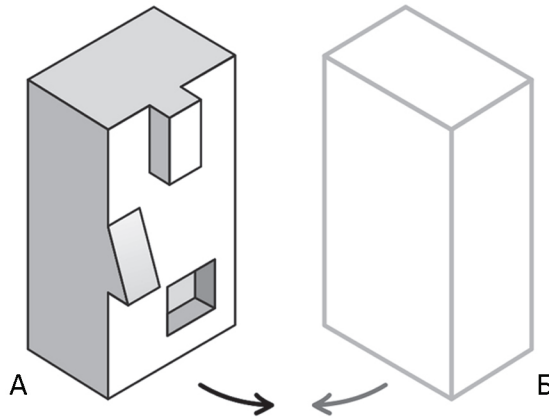


ТЕСТ СКЛОНОСТИ И СПОСОБНОСТИ


3. ПРОНАЂИТЕ ЈЕДНО СЛОВО КОЈЕ СЕ  
РАЗЛИКУЈЕ ОД ОСТАЛИХ.  
ЗАОКРУЖИТЕ ТАЧАН ОДГОВОР.



4. ПОД А ПРИКАЗАНО ЈЕ ТЕЛО КОЈЕ ИМА ИСПУПЧЕЊА, ОДНОСНО УДУБЉЕЊА.  
НА ПРИКАЗУ ПОД Б НАЦРТАЈТЕ ТЕЛО КОЈЕ ЋЕ СВОЈИМ ОБЛИКОМ ЧИНИТИ  
ПОЗИТИВ-НЕГАТИВ ТЕЛА ПОД А.




5. ЗАОКРУЖИТИ КОЈИ ОД ПОНУЂЕНИХ ПРИКАЗА (1-4) ОДГОВАРА ЗАДАТОЈ ФИГУРИ ПОД А И Б. ПРИКАЗИ ПРЕДСТАВЉАЈУ  
ИСТУ ФИГУРУ ПОСМАТРАНУ ИЗ ДРУГОГ УГЛА.




6. ИЗБРОЈТЕ КОЛИКО ЈЕ РАЗЛИЧИТИХ  
ТИПОВА ПИСАМА (ФОНТОВА)  
ПРИКАЗАНО У ДАТИМ РЕЧИМА.  
ЊИХОВ БРОЈ УПИШИТЕ У ПРЕДВИЂЕНО  
ПОЉЕ: \_\_\_\_\_

7. НА ПРИЛОЖЕНУ МРЕЖУ Б, ПРОПОРЦИОНАЛНО ПОВЕЋАТИ ЦРТЕЖ СА МРЕЖЕ А.

ПАПИР МАСТИЛО ТЕМПЕРА КЛУПА  
ОЛОВКА ДИМЕНЗИЈЕ КЊИГА  
СКИЦА ПОРТРЕТ ФИГУРА МУЗИКА  
ШТАМПА РАДИОНИЦА ПОСТЕР  
АЛАТ РАЧУНАР САН КАРИКАТУРА  
МЕТАР ИЗЛОЖБА БОЈА МЕСЕЦ  
АКВАРЕЛ КРОКИ ЗВЕЗДЕ ТАБЛА



А



Б